



پیک آدینه



شماره: هفته چهارم بهمن

پایه: دوم

نام و نام خانوادگی:

ولادت حضرت زینب (س) و روز پرستار مبارک



دستان و پیش دستان غیر دولتی و احترام صدر

۱) «هنرمند» با کدام یک از گزینه های زیر کلمه مشترک دارد؟

- الف) شهر ب) هدایت ج) هنرپیشه

۲) آرامگاه فردوسی در شهر نزدیک شهر قرار دارد.

- الف) توس - شیراز ب) مشهد - نیشابور ج) توس - مشهد

۳) برای مقایسه ی ویژگی یک چیز با چندچیز دیگر، از پسوند استفاده می شود؟

- الف) گر ب) خانه ج) ترین

۴) از نظر ترتیب حروف الفبا کدام یک اول، قرار می گیرد؟

- الف) شاهنامه ب) پهلوان ج) ترین

۵) برج میلاد در شهر است.

- الف) شیراز ب) تهران ج) مشهد

۶) کدام کلمه جمع نیست؟

- الف) زنان ب) پهلوان ج) مردمان

۷) پسوند «گاه» با کدام یک از گزینه های زیر می تواند ترکیب شود و کلمه ی
معنی دار بسازد؟

- الف) دام ب) صورت ج) گردش

۸) کدام مکان، از جاهای دیدنی شهر اصفهان است؟

- الف) ماسوله ب) سی و سه پل ج) ارگ بم

ریاضی

۱) نصف یک سگّه ی ۵۰۰ تومانی

- الف) ۱۵۰ تومان ب) ۲۵۰ تومان ج) ۲۵۰ ریال

۲) به عدد ۵۷۵ چند عدد اضافه کنیم تا حاصل ۶۰۵ شود؟

- الف) ۳۰ ب) ۲۵ ج) ۱۳۰

۳) یک متر و ۴۹ سانتی متر چند سانتی متر است؟

- الف) ۱۳۹ ب) ۲۴۹ ج) ۱۴۹

۴) ۲ دسته ی صدتایی برابر با چند تا ۵۰ تایی است؟

- الف) ۲ ب) ۴ ج) ۳

۵) صدگان عددی ۵ و دهگان آن ۲ می باشد و رقم یکان آن ۴ تا بیش تر از صدگانش است. آن عدد کدام است؟

- الف) ۵۹۴ ب) ۵۲۴ ج) ۵۲۹

۶) قد فرزانه ۱۷۵ سانتی متر است. اگر قد برادرش ۳۰ میلی متر از او کوتاه تر باشد، اندازه ی قد برادر فرزانه چند سانتی متر است؟

- الف) ۱۰۰ ب) ۱۶۸ ج) ۱۷۲

۷) الگویابی پنجم چه ساعتی است؟ - - - - ۹:۵۵ - ۹:۴۰ - ۹:۲۵

(۱) (۲) (۳) (۴) (۵)

- الف) ۱۰:۲۵ ب) ۱۰:۳۰ ج) ۱۰:۱۰

۸) حاصل جمع $۴۰۰ + ۱۰۰ + ۷ + ۲ + ۱۰$ کدام گزینه است؟

- الف) ۵۱۰ ب) ۴۱۷ ج) ۵۱۹

۹) برای مقایسه ی دو عدد سه رقمی ابتدا به کدام رقم توجه می کنیم؟

- الف) دهگان ب) صدگان ج) یکان



۱) کدام یک از جانوران زیر تخم می گذارد؟

- الف) میمون ب) لاک پشت ج) موش

۲) کدام گزینه مراحل زندگی پروانه را به ترتیب نشان می دهد؟

الف) تخم، کرم ابریشم، پیله، پروانه

ب) تخم، پروانه، پیله، کرم ابریشم

ج) تخم، پیله، کرم ابریشم، پروانه

۳) غذای قورباغه کدام جانور می باشد؟

- الف)  ب)  ج) 

۴) چرا بعضی از جانوران برای خود لانه درست می کنند؟

الف) تا در برابر حمله ی دشمنان در امان باشند

ب) تا در برابر سرما و گرما محفوظ باشند

ج) هر دو مورد

۵) کدام جانور در زیر زمین زندگی می کند؟

- الف) سنجاب ب) جغد ج) موش کور

۶) غذای عقاب کدام گزینه می باشد؟

- الف) خرگوش ب) فیل ج) قورباغه

۷) کدام جمله درست است؟

- الف) پرندگان غذای کانگورو هستند
 ب) کانگورو نمی تواند از بچه ی خود نگهداری کند
 ج) کانگوروها غذای شیر و ببر هستند

۸) کدام یک از جانوران برای خود لانه نمی سازند؟

- الف) زرافه - شیر ب) دارکوب - خرگوش ج) گرگ - موش

۹) جمله ی درست را انتخاب کنید.

- الف) ماده ی غذایی هر دانه روی پوسته ی دانه قرار دارد
 ب) گیاهان فقط از رویش دانه به وجود می آیند
 ج) انسان ها در پراکنده شدن دانه ها تأثیر دارند



۱۰) دو خط درباره ی موش بنویسید.

.....

.....

۱۰) جاهای خالی را کامل کنید.

* جانوران لانه های خود را در جاهای می سازند. پرندگان بدنشان از تشکیل شده و هستند.

* جانوران برای نگه داری از و در امان بودن از و حفظ خود از لانه می سازند.

* بعضی از جانوران مثل از لانه قدیمی دیگر جانوران استفاده می کنند.

* ، مار و تخم گذارند. از هر تخم بیرون می آید که مادرش است.

* گاو و فیل هستند و به بچه ی خود می دهند تا بزرگ شوند.

(۱۱)

مه‌ره داران به پنج گروه تقسیم می شوند:

ماهی ها - پرندگان - دوزیستان - خزندگان - پستانداران

حالا برای هر گروه یک جانور مثال بنویس.

.....

.....

جدول

(۱) فراوان

(۲) از مکان های دیدنی شمال ایران

(۳) از ویژگی های مردان و زنان ایرانی















(۴) مخالف دشمنان

(۵) بزرگ ترین قله ی کشورمان

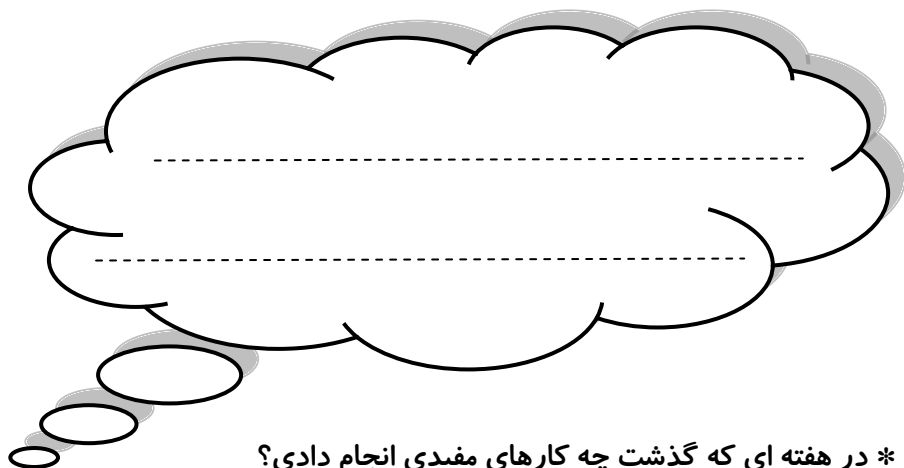
(۶) بنایی قدیمی در شهر بم

(۷) آرامگاه سعدی در این شهر قرار دارد.

(۸) بیستون در شهر قرار دارد.

						س		← ۱
							م	← ۲
					ای			← ۳
			ا					← ۴
							د	← ۵
								← ۶
						ی		← ۷
		ش					ک	← ۸

ولی محترم لطفاً نظر خود را در رابطه با پیک این هفته برایمان بنویسید.



* در این هفته چگونه به خانواده ی خودکمک کردی؟

* به نظر خودت چه ویژگی را باید داشته باشی تا دیگران از دوست شدن با شما خوشحال باشند؟



افراد برتر هفته ...

